

令和5年度 S特選コース

第1回 入学試験問題 (2月1日 午後)

社 会

注 意

- 1 この問題用紙は、試験開始の合図で開くこと。
- 2 問題用紙と解答用紙に受験番号・氏名を記入すること。
- 3 答えはすべて解答用紙に記入すること。
漢字で書くべき解答は、漢字で答えること。
- 4 印刷がわからない場合は申し出ること。
- 5 試験終了の合図でやめること。

受験 番号		氏 名	
----------	--	--------	--

1 次の【記事】を読んで後の問いに答えなさい。

【記事】北京オリンピックが閉幕 中国側は大会の成功をアピール

北京 A オリンピックの閉会式が 20 日夜行われ、中国側は「冬のスポーツの新しい時代を切り開いた」と大会の成功をアピールしました。

習近平国家主席としては、共産党トップとして異例の 3 期目入りをにらんで、大きな実績にしたものとみられます。

北京オリンピックの閉会式は 20 日夜、北京にある国家スタジアム、通称「鳥の巣」で行われ、習近平国家主席や IOC = 国際オリンピック委員会のバッハ会長らが出席しました。

式では大会組織委員会の会長で、B 北京市トップの蔡奇書記が「北京は夏と冬の両方の大会を開催した。今回の特別なオリンピックは冬のスポーツの新しい時代を切り開いた」と述べ、大会の成功をアピールしました。

中国は新型コロナウイルスのわずかな感染拡大も許さない「ゼロコロナ」政策を続けるとともに、選手や大会関係者が外部と接触できないようにするいわゆる「バブル方式」を徹底し、17 日間の日程を予定どおり終えました。

また中国の人権状況を理由に政府関係者を派遣しない「C 外交的ボイコット」の動きが欧米などの間で相次いだ中でも、開会式にはロシアのプーチン大統領をはじめ、選手が参加しない国も含めて 20 か国余りの要人が出席しました。

さらに中国はノルウェー、ドイツに次いで 3 位となる 9 個の金メダルを獲得し、メダルの総数でも冬の大会で最多となりました。

習主席としてはことし開かれる共産党大会で党のトップとして異例の 3 期目入りをにらんで、オリンピックに続いて来月 4 日に開幕するパラリンピックも成功に導き、大きな実績にしたものとみられます。

(2022 年 2 月 21 日 6 時 11 分
NHK NEWS WEB)

問1 下線部 A について、[表] は直近 5 回の冬季オリンピックについてまとめたものです。[表] に関連して後の問いに答えなさい。

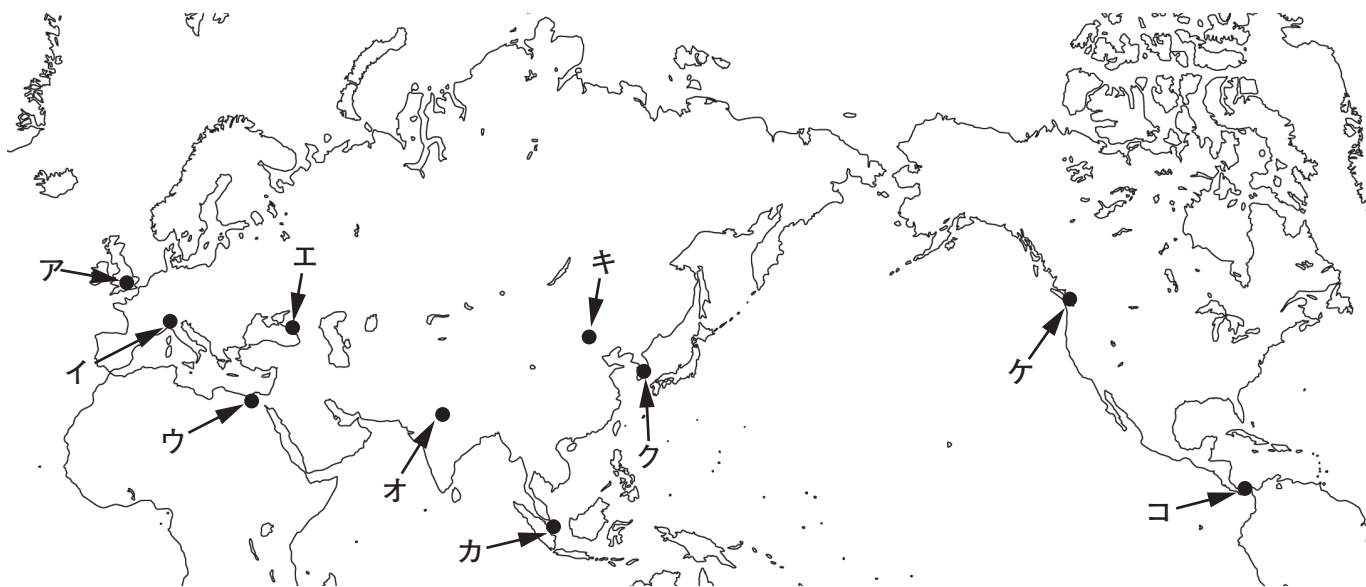
[表] 直近 5 回の冬季オリンピックの開催年、開催都市、開催国、参加国・地域数

開催年	開催都市	開催国	参加国・地域数
2022	北京	中国	91
2018	平昌	韓国	92
2014	ソチ	ロシア	88
2010	バンクーバー	カナダ	82
2006	トリノ	イタリア	80

(公益財団法人日本オリンピック委員会 HP)

(1) 次の [地図] 中のア～コの中から、北京、平昌、ソチ、バンクーバー、トリノの場所を示した組み合わせとして正しいものを、後の①～⑧から答えなさい。

[地図]



- ① 北京 — キ 平昌 — ク ソチ — エ バンクーバー — ア トリノ — ケ
- ② 北京 — キ 平昌 — ク ソチ — エ バンクーバー — ケ トリノ — イ
- ③ 北京 — ケ 平昌 — ク ソチ — キ バンクーバー — ウ トリノ — イ
- ④ 北京 — ケ 平昌 — ク ソチ — キ バンクーバー — カ トリノ — ア
- ⑤ 北京 — ク 平昌 — キ ソチ — オ バンクーバー — ア トリノ — コ
- ⑥ 北京 — ク 平昌 — キ ソチ — オ バンクーバー — ケ トリノ — ア
- ⑦ 北京 — オ 平昌 — キ ソチ — イ バンクーバー — ウ トリノ — コ
- ⑧ 北京 — オ 平昌 — キ ソチ — イ バンクーバー — カ トリノ — ケ

(2) 次の【写真】は中国、韓国、ロシア、カナダ、イタリアのいずれかにある世界遺産の写真です。また、【図】は中国、韓国、ロシア、カナダ、イタリアのいずれかの国旗です。【写真】の世界遺産がある国を答え、さらにその国の国旗として正しいものを、【図】中の①～⑤から選びなさい。

【写真】ピサの斜塔



(Wikipedia)

【図】



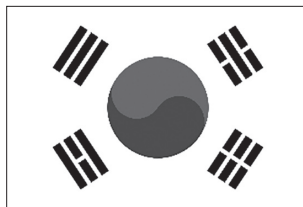
①



②



③



④



⑤

(3) 次の【国家・地域】は2018年平昌大会に参加したものの、2022年北京大会には参加しなかった国家・地域です。【国家・地域】について説明した後の①～④のうち、誤っているものをすべて選びなさい。


【国家・地域】

バミューダ諸島 ケニア 朝鮮民主主義人民共和国
シンガポール 南アフリカ共和国 トーゴ トンガ


- ① 朝鮮民主主義人民共和国は東アジアに位置し、日本とは国交がない。
- ② シンガポールは西アジアに位置し、国際的な貿易港として有名である。
- ③ 南アフリカ共和国はアフリカ南部に位置し、かつてアパルトヘイトが行われた国である。
- ④ トンガは南大西洋に位置し、日本産の大豆の輸出が盛んにおこなわれている。

問2 下線部 **B** について、北京市上空から撮影した航空写真として正しいものを、【ヒント】を参考にして後の①～④から選びなさい。

【ヒント】 中国の街並みを参考にして作った京都の街並みを思い出してみよう。




①



②



③



④

問3 下線部 **C** について、これは中国のある自治区において、人権侵害が行われているという報告がなされたことで行われました。その自治区の名称を解答らんにあてはまるように答えなさい。

2 物価上昇が歴史上いかなる理由で発生し、どのような影響を及ぼしたのかを調べる学習活動が行われました。ア～オ班は以下のような発表を行いました。この発表内容を参考に後の問いに答えなさい。

ア **A** 国内における戦争の費用を調達するため、信用度の低い政府紙幣が大量に発行された。このため、戦争後に大規模な物価高が生じた。政府はデフレ政策を行うが、農産物価格の下落を招き、埼玉県の農民たちは困民党を組織して借金のすえおきや減税を求めて立ち上がった。

イ 第一次世界大戦がおこったことで、国内における重化学工業・繊維業等の生産は急増し、輸入超過の傾向にあった貿易収支は大幅な黒字に転じて好況となった。この大戦景気による物価上昇とともに、シベリア出兵の社会的影響により不満が高まった民衆が暴動を起こした。

ウ 明暦の大火による江戸復興費や金山からの金産出量の大幅減少などで財政が悪化したため、幕府は**B** 貨幣の改鋳を行った。この貨幣の改鋳により幕府の財政は一時的には立ち直ったが、物価の上昇を招き政治への不満を高めることになった。

エ **C** 第4次中東戦争がおこったことで、アラブ産油国によって構成されるアラブ石油輸出国機構は、原油生産の削減を行い、さらに西側諸国に対して、石油の禁輸と輸出制限を行った。この石油戦略により原油価格は上昇。輸送費とエネルギー価格上昇により物価上昇を招いた。

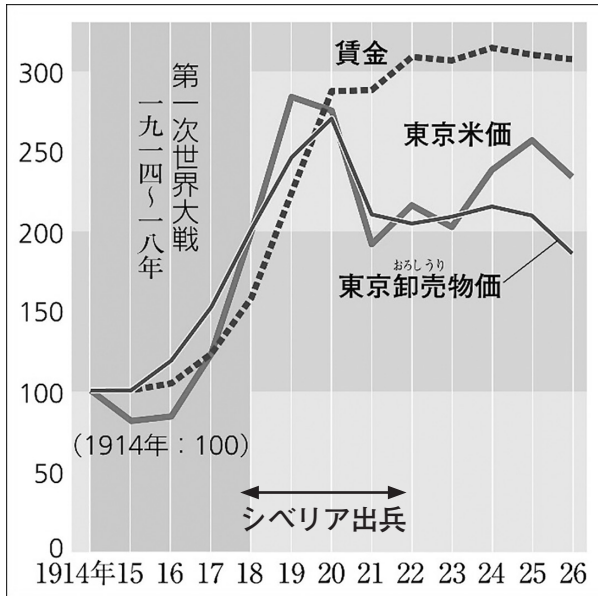
オ 第二次世界大戦後、国内では物資が不足。さらに交通機関の機能が低下したことで都市部では食料や生活必需品の配給状況が悪化した。この物資不足による物価上昇と、戦後復興のための国債の大量発行が物価のさらなる上昇を招いた。

問1 ア～オ班が発表した内容を時代の古い順に並びかえなさい。

問2 下線部 A について、この戦争名を答えなさい。

問3 イ班は、好景気にもかかわらず民衆の不満が高まって暴動にまで発展した原因を、[グラフI]を参考に考えました。考え方として正しいものを、後の①～④から選びなさい。

[グラフI] 大戦開始後の物価指数

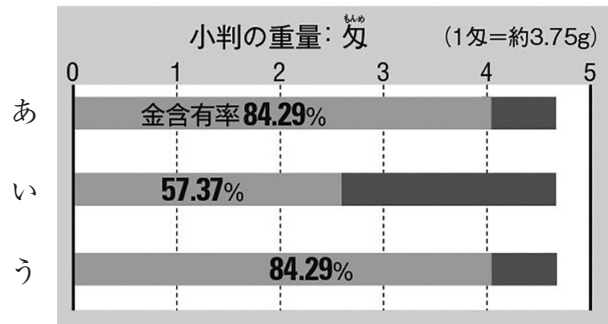


(「高校日本史 改」)

- ① 日本は、シベリア出兵により穀倉地帯の占領に成功した。このことにより、シベリア出兵当初から米価の急激な下落が起こったことによって暴動が発生した。
- ② シベリア出兵により戦時体制が強化された。このことにより民衆の購買意欲が低下し、1921年より東京卸売物価が下落したことによって暴動が発生した。
- ③ 1917年から1920年にかけて、米価や物価の上昇率に賃金の上昇率が追い付かなかったため、民衆の生活が圧迫されたことによって暴動が発生した。
- ④ シベリア出兵が終わる1922年まで東京米価や東京卸売物価は上昇し続け、賃金との格差が生じたことによって暴動が発生した。

問4 下線部 B について、この当時の貨幣改鑄はどのように行われたでしょうか。[グラフⅡ]の小判の金含有率のうつりかわりと、それを選んだ理由の組み合わせとして正しいものを、後の①～④から選びなさい。

[グラフⅡ] 小判の金含有率のうつりかわり



[理由]

- a 金の含有率を減らし、小判の質を落としたことで物価の上昇を招いたと考えられるから。
- b 金の含有率を増やし、小判の質を高めたことで物価の上昇を招いたと考えられるから。

- ① [グラフⅡ] あ → い [理由] a
- ② [グラフⅡ] い → う [理由] b
- ③ [グラフⅡ] あ → い [理由] b
- ④ [グラフⅡ] い → う [理由] a

問5 下線部 B の貨幣の改鑄が行われた時の将軍が行った政策として誤っているものを、次の①～④から2つ選びなさい。

- ① 力で支配する政治からの転換をはかり、学問や礼節を重んじる政治が行われた。
- ② 金銀の海外への流出を防ぐため、長崎での貿易を制限した。
- ③ 大名に対して、米を納めさせる代わりに参勤交代をゆるめる上米の制を行った。
- ④ 犬や各種の動物、捨て子などを保護する生類憐みの令が出された。

問6 下線部 C について、次の問いに答えなさい。

- (1) この戦争でアラブ諸国と戦った国はどこですか。
- (2) この戦争が始まる2年前、世界経済のあり方に大きな転換をもたらすできごとが起こりました。このできごととして正しいものを、次の①～④から選びなさい。
 - ① アメリカで同時多発テロ事件が発生した。
 - ② マルタ会談が行われ、冷戦の終結宣言が出された。
 - ③ ソ連を構成していたロシアなど15の共和国が独立して、ソ連が解体した。
 - ④ アメリカが金ドル本位制を停止した。

(問題は次のページに続く)

3 太郎君はお父さんといっしょに国会議事堂の見学に行きました。次の会話文を読んで、後の問いに答えなさい。

太郎：わあ、すごい大きな建物だね。これが A 国会議事堂 かなあ！

父：そうだよ。なんと言っても、日本国憲法では「B 国権の最高機関」と位置づけられているからね。

太郎：よく、衆議院とか参議院とかいう言葉がニュースでも出てくるよね。

父：そうだね。日本は C 二院制 をとっているんだ。

太郎：今ちょうど D 国会 が開かれているんだよね。国会の中にもいろいろな政党があるんでしょ。

父：うん。国会の中で多数の議席を占めている政党が、政権を担当することが多いんだ。

太郎：そもそも、国会って何をするとところ？

父：いろいろなことを行っているけど、一番大切な仕事は（あ）ことだよ。

太郎：でも、なんだか国会って、国民から見ると遠い存在のような気がするなあ。

父：そうだね。でも国民は選挙を通じて代表者を国会に送ることができるんだよ。

太郎：そうかあ。じゃあ、その代表者によって国の様子が変わってくるんだね。なるほど。

問1 文中の（あ）にあてはまる文として正しいものを、次の①～④から選びなさい。

- ① 作られた法律が憲法に合っているかどうかを判断し、合っていなければ指摘^{してき}する
- ② 決められた法律や予算にしたがって政治を行い、国を治める
- ③ 国民の幸福や利益を考え、話し合っ^て法律を作る
- ④ 天皇の国事行為について、助言と承認^{あた}を与える

問2 下線部 A の写真として正しいものを、次の①～④から選びなさい。



①



②



③



④

問3 下線部 B について、国会・内閣・裁判所の中で、国会が日本国憲法において「国権の最高機関」と位置づけられている理由を、次の①～④から選びなさい。

- ① 国会だけが辞職すべき議員がいるかどうかを判断する国民審査を受けているから。
- ② 国会だけが主権者である国民によって選ばれた代表者で構成されるから。
- ③ 所属する人数が一番多く、国会が一番大きな組織であるから。
- ④ 日本国憲法の中で「衆議院の優越」が認められているから。

問4 下線部 C について、国会が二院制を採用する理由として誤っているものを、次の①～④から選びなさい。

- ① 二院あるので、一院が機能しない場合では他院が機能して、緊急の案件を処理することができる。
- ② 二院を構成する議員の任期・選出方法などに違いを持たせているので、国民の多様な意見を国会に反映させることができる。
- ③ 二院あるので、審議を2回行うことができ、慎重に審議することができる。
- ④ 二院あるので、審議を分担して行うことができ、さらに一方の院で可決された案件はもう一方の院では審議しなくてよいので、効率的に業務を進めることができる。

問5 下線部 D について、次の問いに答えなさい。

(1) 太郎君が見学した国会は以下のものです。この国会を何といいますか。解答らんに合うように答えなさい。

毎年1月から開かれ、次年度の予算を審議することが大きな目的となっています。

(2) 次の文章の空らん (い) にあてはまる言葉を漢字2字で答えなさい。

衆議院で内閣不信任案が可決された場合には、内閣は10日以内に総辞職するか、衆議院を (い) しなければならない。

(3) 国会と関係している^{だんがい}弾劾裁判について述べた文として正しいものを、次の①～④から選びなさい。

- ① 裁判官としてふさわしくない裁判官を、国会議員が裁判する。
- ② 国会議員としてふさわしくない国会議員を、裁判官が裁判する。
- ③ 裁判官としてふさわしくない裁判官を、内閣総理大臣が裁判する。
- ④ 国会議員としてふさわしくない国会議員を、内閣総理大臣が裁判する。

(問題は次のページに続く)

4 2022年7月10日に参議院議員選挙が行われました。日本の選挙制度について、以下の【表Ⅰ】 【表Ⅱ】 【地図】を参考にして後の問いに答えなさい。

【表Ⅰ】 2022年参議院議員選挙における

都道府県別有権者数(単位 1000人)

都道府県	有権者数
埼玉	6146
千葉	5261
東京	11455
神奈川	7697
鳥取	463
島根	557
徳島	619
高知	594

(総務省統計局 HP)

【表Ⅱ】 選挙区ごとの改選数

選挙区	改選数
東京	6
埼玉、神奈川、愛知、大阪	4
北海道、千葉、兵庫、福岡	3
茨城、静岡、京都、広島	2

※上記以外の選挙区は改選数1。

※改選数とは、各選挙区において一回の選挙で選出される議員の数。

(本校作成)

【地図】



※地図上の○は、徳島県と高知県で人口が集中している地域を示している。

(地理院地図)

問1 かつて参議院の選挙区は都道府県を一つの単位として行われてきましたが、2016年の選挙から「鳥取県と島根県」、「徳島県と高知県」が、それぞれ一つの選挙区となりました。このような選挙区を「合区」といいます。合区が作られた理由を、[表Ⅰ] [表Ⅱ]を参考にして、解答らんにあうように8字以上15字以内で説明しなさい。

問2 合区を設けることには反対意見もあります。反対意見の一つとして地理的な問題をあげる人もいます。[地図]を参考に、徳島県と高知県を合区にすることが難しいと考えられる地理的な理由を20字以内で説明しなさい。

問3 参議院議員選挙が初めて行われた1947年には議員定数は250とされていましたが、1970年には議員定数が2増加されました。定数の増加は2年後に迫ったある出来事に対応するために行われました。1972年に実現したその出来事を答えなさい。

評価点	令和5年度 S特選コース
	第1回 中学入学試験問題 [社会] 解答用紙 (2月1日午後)
氏名	

受験番号	①	②	③	④	⑤	⑥	⑦	⑧	⑨
	①	②	③	④	⑤	⑥	⑦	⑧	⑨
	①	②	③	④	⑤	⑥	⑦	⑧	⑨
	①	②	③	④	⑤	⑥	⑦	⑧	⑨

記入例

良い例	●
悪い例	○

《注意事項》

- ・解答は解答欄の枠内に濃くはっきりと記入して下さい。
- ・解答欄以外の部分には何も書かないで下さい。

用紙タテ上 こちらを上にしてください

社会

1	問1	(1)															
		(2)	国名	国旗													
		(3)															
	問2																
		問3	しんきょう 新疆	自治区													
	2	問1	→ → → →														
		問2															
		問3															
問4																	
問5																	
問6		(1)			(2)												
3	問1																
	問2																
	問3																
	問4																
	問5	(1)	国会		(2)												
(2)				(3)													
4	問1	改選数に対して															
	問2																
	問3																